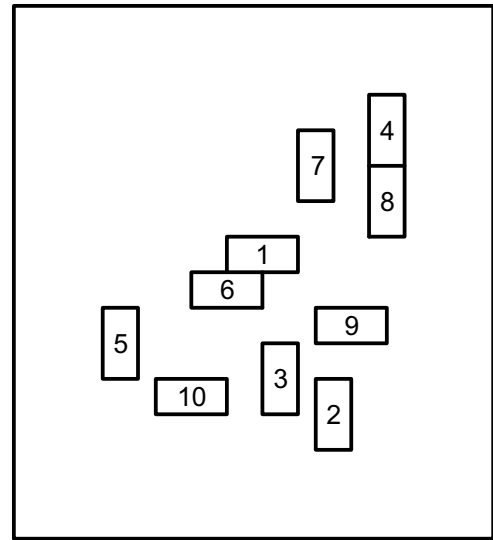
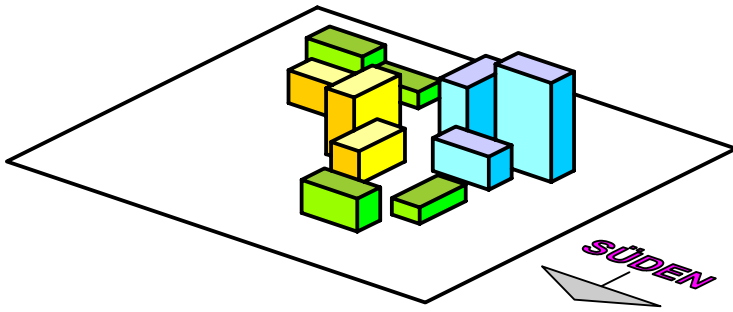
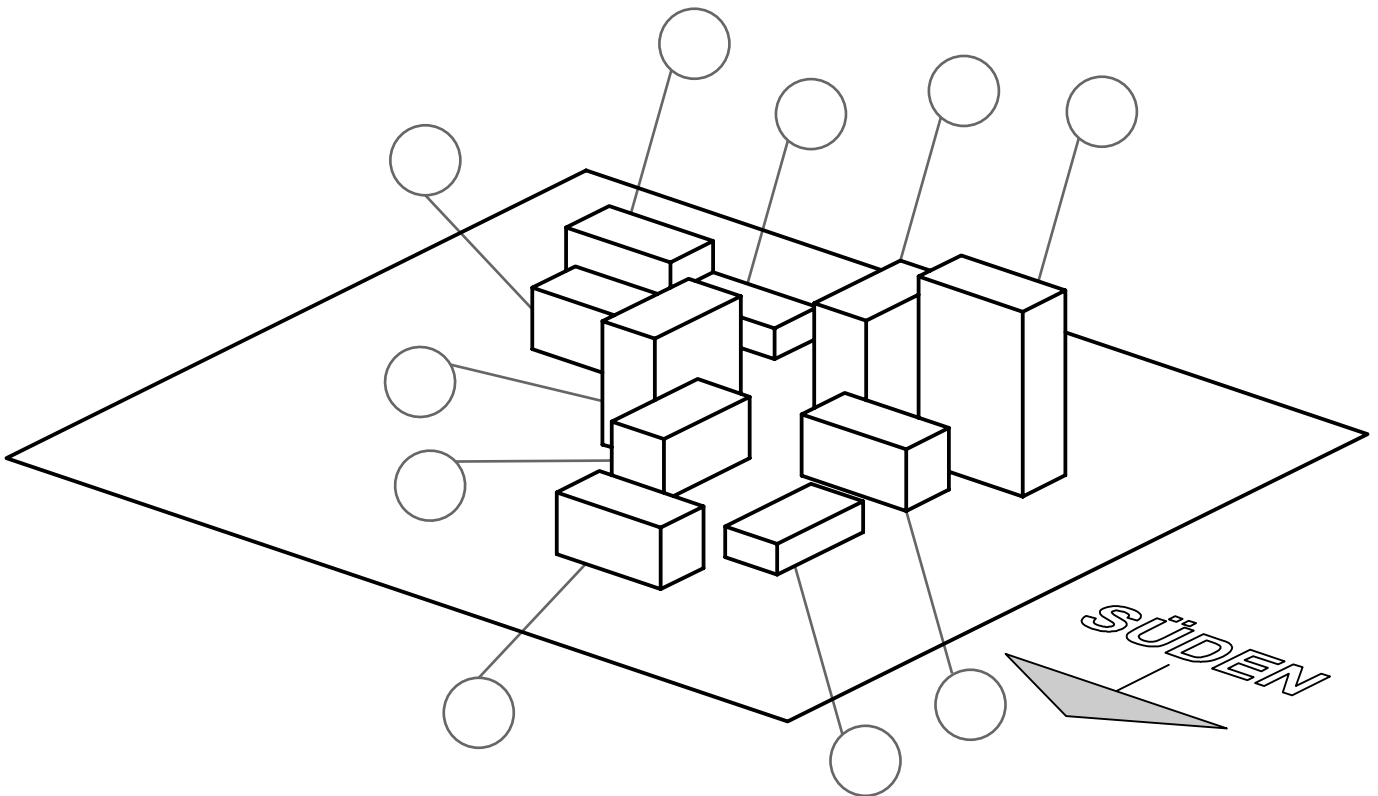


Büroviertel



- ▶ Ordne die Gebädenummern, die du im Grundkataster erkennst, den Raumobjekten zu! Überlege dir dazu, welche Richtung die Süd-Richtung ist und schreibe dann die Gebädenummern in die dafür vorgesehenen Kreise.



- ▶ Welche Gebäude sind in Nord-Süd-Richtung ausgerichtet? Zähle sie alle auf!

.....
 (Hinweis: Damit ein Haus in Nord-Süd-Richtung ausgerichtet ist, muss die lange Seite der Grundfläche in Nord-Süd-Richtung liegen.)

- ▶ Welche Höhe besitzen die einzelnen Gebäude? Ergänze die Nummern der Gebäude!

Höhe 1 haben die Gebäude

Höhe 2 haben die Gebäude

Höhe 4 haben die Gebäude

Höhe 6 haben die Gebäude